

**Государственная (итоговая) аттестация
по ИНФОРМАТИКЕ и ИКТ
Вариант № 1314**

Инструкция по выполнению работы

На выполнение экзаменационной работы по информатике отводится 2 часа 30 минут (150 минут). Экзаменационная работа состоит из 3 частей, включающих в себя 20 заданий. К выполнению заданий части 3 учащийся переходит, сдав выполненные задания частей 1 и 2 экзаменационной работы. Учащийся может самостоятельно определять время, которое он отводит на выполнение заданий частей 1 и 2, но рекомендуемое время – 1 час 15 минут (75 минут) и на выполнение заданий части 3 также 1 час 15 минут (75 минут).

При решении заданий частей 1 и 2 **нельзя** пользоваться компьютером, калькулятором, справочной литературой.

Часть 1 содержит 6 заданий (1–6) с выбором ответа. К каждому заданию даётся четыре варианта ответа, из которых только один верный.

Часть 2 содержит 12 заданий (7–18) с кратким ответом. Ответы на задания частей 1 и 2 укажите сначала на листах с заданиями экзаменационной работы, а затем перенесите в бланк № 1. Если в задании в качестве ответа требуется записать последовательность цифр, при переносе ответа на бланк следует указать только эту последовательность, без пробелов, запятых и других дополнительных символов. Если ответ на задание имеет единицу измерения, то при переносе ответа на бланк следует указать только полученное число. Единицы измерения в ответе указывать не надо.

Часть 3 представляет собой практические задания, которые необходимо выполнить на компьютере.

Часть 3 содержит 2 задания (19, 20), на которые следует дать развёрнутый ответ. Решением для каждого задания является файл, который необходимо сохранить под именем, указанным организаторами экзамена, в формате, также установленном организаторами.

При выполнении заданий Вы можете пользоваться черновиком. Обращаем Ваше внимание на то, что записи в черновике не будут учитываться при оценивании работы.

Баллы, полученные Вами за выполненные задания, суммируются. Постарайтесь выполнить как можно больше заданий и набрать наибольшее количество баллов.

Желаем успеха!

Часть 1

При выполнении заданий этой части (1–6) из четырёх предложенных вариантов выберите один верный. В бланке ответов № 1 поставьте знак «×» в клеточке, номер которой соответствует номеру выбранного Вами ответа.

- 1** В одной из кодировок Unicode каждый символ кодируется 16 битами. Определите размер следующего предложения в данной кодировке:

Я к вам пишу – чего же боле? Что я могу ещё сказать?

- 1) 52 байт
2) 832 бит
3) 416 байт
4) 104 бит

- 2** Для какого из приведённых чисел ложно высказывание:
НЕ (число > 50) **ИЛИ** (число чётное)?

- 1) 123 2) 56 3) 9 4) 8

- 3** Между населёнными пунктами А, В, С, D, Е построены дороги, протяжённость которых (в километрах) приведена в таблице.

	A	B	C	D	E
A		2	5	1	
B	2		1		
C	5	1		3	2
D	1		3		
E			2		

Определите длину кратчайшего пути между пунктами А и Е. Передвигаться можно только по дорогам, протяжённость которых указана в таблице.

- 1) 4 2) 5 3) 6 4) 7

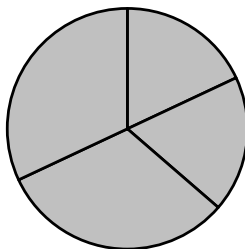
- 4** В некотором каталоге хранился файл **Хризантема.doc**, имевший полное имя **D:\2013\Осень\Хризантема.doc**. В этом каталоге создали подкаталог **Ноябрь** и файл **Хризантема.doc** переместили в созданный подкаталог. Укажите полное имя этого файла после перемещения.

- 1) D:\2013\Осень\Ноябрь\Хризантема.doc
2) D:\Ноябрь\Хризантема.doc
3) D:\2013\Осень\Хризантема.doc
4) D:\2013\Ноябрь\Хризантема.doc

- 5 Дан фрагмент электронной таблицы.

	A	B	C	D
1	3	4	2	5
2		=D1–1	=A1+B1	=C1+D1

Какая из формул, приведённых ниже, может быть записана в ячейке A2, чтобы построенная после выполнения вычислений диаграмма по значениям диапазона ячеек A2:D2 соответствовала рисунку?



- 1) =D1–A1
- 2) =B1/C1
- 3) =D1–C1+1
- 4) =B1*4

- 6 Исполнитель Черепашка перемещается на экране компьютера, оставляя след в виде линии. В каждый конкретный момент известно положение исполнителя и направление его движения. У исполнителя существует две команды:

Вперёд n (где n – целое число), вызывающая передвижение Черепашки на n шагов в направлении движения;

Направо m (где m – целое число), вызывающая изменение направления движения на m градусов по часовой стрелке.

Запись **Повтори k [Команда1 Команда2 Команда3]** означает, что последовательность команд в скобках повторится k раз.

Черепашке был дан для исполнения следующий алгоритм:

Повтори 5 [Вперёд 100 Направо 60]

Какая фигура появится на экране?

- 1) правильный треугольник
- 2) правильный шестиугольник
- 3) правильный пятиугольник
- 4) незамкнутая ломаная линия

Часть 2

Ответом к заданиям этой части (7–18) является последовательность букв или цифр, которые следует записать в бланк ответов № 1 справа от номера соответствующего задания, начиная с первой клеточки. При переносе ответа на бланк следует указать только эту последовательность, без запятых, пробелов и других дополнительных символов. Каждый символ пишете в отдельной клеточке в соответствии с приведёнными в бланке образцами.

- 7 От разведчика была получена следующая шифрованная радиограмма, переданная с использованием азбуки Морзе:

• – – – • – – – – – • – – – – –

При передаче радиограммы было потеряно разбиение на буквы, но известно, что в радиограмме использовались только следующие буквы:

А	Д	Л	Т	Ж
• –	– • •	• – • •	–	• • • –

Расшифруйте радиограмму.

Запишите в ответе расшифрованную радиограмму.

Ответ: _____.

- 8 В программе «:=» обозначает оператор присваивания, знаки «+», «–», «*» и «/» – соответственно операции сложения, вычитания, умножения и деления. Правила выполнения операций и порядок действий соответствует правилам арифметики.

Определите значение переменной a после выполнения алгоритма:

a := 6

b := 2

b := a/2*b

a := 2*a+3*b

В ответе укажите одно целое число – значение переменной a.

Ответ: _____.

- 9 Запишите значение переменной s , полученное в результате работы следующей программы. Текст программы приведён на трёх языках программирования.

Алгоритмический язык	Бейсик	Паскаль
<pre> алг нач цел s, k s := 0 нц для k от 6 до 12 s := s+10 кц вывод s кон </pre>	<pre> DIM k, s AS INTEGER s = 0 FOR k = 6 TO 12 s = s+10 NEXT k PRINT s </pre>	<pre> Var s, k: integer; Begin s := 0; for k := 6 to 12 do s := s+10; writeln(s); End. </pre>

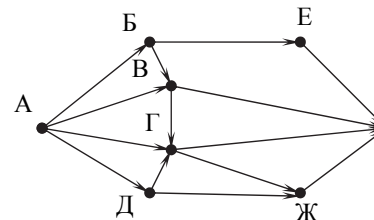
Ответ: _____.

- 10 В таблице Dat представлены данные о количестве голосов, поданных за 10 исполнителей народных песен (Dat[1] – количество голосов, поданных за первого исполнителя, Dat[2] – за второго и т. д.). Определите, какое число будет напечатано в результате работы следующей программы. Текст программы приведён на трёх языках программирования.

Алгоритмический язык	Бейсик	Паскаль
<pre> алг нач целтаб Dat[1:10] цел k, m Dat[1] := 16 Dat[2] := 20 Dat[3] := 20 Dat[4] := 41 Dat[5] := 14 Dat[6] := 21 Dat[7] := 28 Dat[8] := 12 Dat[9] := 15 Dat[10] := 35 m := 0 нц для k от 1 до 10 если Dat[k]>m то m := Dat[k] все кц вывод m кон </pre>	<pre> DIM Dat(10) AS INTEGER DIM k,m AS INTEGER Dat(1) = 16: Dat(2) = 20 Dat(3) = 20: Dat(4) = 41 Dat(5) = 14: Dat(6) = 21 Dat(7) = 28: Dat(8) = 12 Dat(9) = 15: Dat(10) = 35 m = 0 FOR k = 1 TO 10 IF Dat(k)>m THEN m = Dat(k) ENDIF NEXT k PRINT m </pre>	<pre> Var k, m: integer; Dat: array[1..10] of integer; Begin Dat[1] := 16; Dat[2] := 20; Dat[3] := 20; Dat[4] := 41; Dat[5] := 14; Dat[6] := 21; Dat[7] := 28; Dat[8] := 12; Dat[9] := 15; Dat[10] := 35; m := 0; for k := 1 to 10 do if Dat[k]>m then begin m := Dat[k]; end; writeln(m); End. </pre>

Ответ: _____.

- 11 На рисунке – схема дорог, связывающих города А, Б, В, Г, Д, Е, Ж и К. По каждой дороге можно двигаться только в одном направлении, указанном стрелкой. Сколько существует различных путей из города А в город К?



Ответ: _____.

- 12 Ниже в табличной форме представлен фрагмент базы данных «Отправление поездов дальнего следования».

Пункт назначения	Категория поезда	Время в пути	Вокзал
Махачкала	скорый	39.25	Павелецкий
Махачкала	скорый	53.53	Курский
Мурманск	скорый	35.32	Ленинградский
Мурманск	скорый	32.50	Ленинградский
Мурманск	пассажирский	37.52	Ленинградский
Мурманск	пассажирский	37.16	Ленинградский
Назрань	пассажирский	40.23	Павелецкий
Нальчик	скорый	34.55	Казанский
Нерюнгри	скорый	125.41	Казанский
Нерюнгри	скорый	125.41	Павелецкий
Нижевартовск	скорый	52.33	Казанский
Нижний Тагил	фирменный	31.36	Ярославский

Сколько записей в данном фрагменте удовлетворяют условию **(Категория поезда = «скорый») И (Время в пути > 36.00)?**
В ответе укажите одно число – искомое количество записей.

Ответ: _____.

- 13 Переведите число 126 из десятичной системы счисления в двоичную систему счисления. Сколько единиц содержит полученное число?
В ответе укажите одно число – количество единиц.

Ответ: _____.

14 У исполнителя Делитель две команды, которым присвоены номера:

1. раздели на 2

2. вычти 1

Первая из них уменьшает число на экране в 2 раза, вторая уменьшает его на 1.

Исполнитель работает только с натуральными числами.

Составьте алгоритм получения **из числа 65 числа 4**, содержащий не более 5 команд. В ответе запишите только номера команд.

(Например, 12112 – это алгоритм:

раздели на 2

вычти 1

раздели на 2

раздели на 2

вычти 1,

который преобразует число 42 в 4).

Если таких алгоритмов более одного, то запишите любой из них.

Ответ: _____.

15 Файл размером 2000 Кбайт передаётся через некоторое соединение в течение 30 секунд. Определите размер файла (в Кбайт), который можно передать через это соединение за 12 секунд.

В ответе укажите одно число – размер файла в Кбайт. Единицы измерения писать не нужно.

Ответ: _____.

16 Некоторый алгоритм из одной цепочки символов получает новую цепочку следующим образом. Сначала вычисляется длина исходной цепочки символов; если она чётна, то дублируется последний символ цепочки, а если нечётна, то в начало цепочки добавляется символ **Р**. В полученной цепочке символов каждая буква заменяется буквой, следующей за ней в русском алфавите (**А** – на **Б**, **Б** – на **В** и т. д., а **Я** – на **А**).

Получившаяся таким образом цепочка является результатом работы алгоритма.

Например, если исходной была цепочка **НОГА**, то результатом работы алгоритма будет цепочка **ОПДББ**, а если исходной была цепочка **ТОН**, то результатом работы алгоритма будет цепочка **СУПО**.

Дана цепочка символов **СЛОТ**. Какая цепочка символов получится, если к данной цепочке применить описанный алгоритм дважды (т. е. применить алгоритм к данной цепочке, а затем к результату вновь применить алгоритм)? Русский алфавит: **АБВГДЕЁЖЗИЙКЛМНОПРСТУФХЦЧШЩЪЫЬЭЮЯ**

Ответ: _____.

17 Доступ к файлу **rus.doc**, находящемуся на сервере **obr.org**, осуществляется по протоколу **https**. Фрагменты адреса файла закодированы буквами от А до Ж. Запишите последовательность этих букв, кодирующую адрес указанного файла в сети Интернет.

А) obr.

Б) /

В) org

Г) ://

Д) doc

Е) rus.

Ж) https

Ответ:

--	--	--	--	--	--	--

18 В таблице приведены запросы к поисковому серверу. Для каждого запроса указан его код – соответствующая буква от А до Г. Расположите коды запросов слева направо в порядке **возрастания** количества страниц, которые нашёл поисковый сервер по каждому запросу. По всем запросам было найдено разное количество страниц.

Для обозначения логической операции «ИЛИ» в запросе используется символ «|», а для логической операции «И» – «&».

Код	Запрос
А	Солнце & Воздух
Б	Солнце Воздух Вода
В	Солнце Воздух Вода Огонь
Г	Солнце Воздух

Ответ:

--	--	--	--

Не забудьте перенести все ответы в бланк ответов № 1.

Часть 3

Задания этой части (19–20) выполняются на компьютере. Результатом исполнения задания является отдельный файл (для одного задания – один файл). Формат файла, его имя и каталог для сохранения Вам сообщат организаторы экзамена.

- 19** В электронную таблицу занесли данные о калорийности продуктов. Ниже приведены первые пять строк таблицы.

	А	В	С	Д	Е
1	Продукт	Жиры, г	Белки, г	Углеводы, г	Калорийность, Ккал
2	Арахис	45,2	26,3	9,9	552
3	Арахис жареный	52	26	13,4	626
4	Горох отварной	0,8	10,5	20,4	130
5	Горошек зелёный	0,2	5	8,3	55

В столбце А записан продукт; в столбце В – содержание в нём жиров; в столбце С – содержание белков; в столбце Д – содержание углеводов и в столбце Е – калорийность этого продукта.

Всего в электронную таблицу были занесены данные по 1000 продуктам.

Выполните задание

Откройте файл с данной электронной таблицей (расположение файла Вам сообщат организаторы экзамена). На основании данных, содержащихся в этой таблице, ответьте на два вопроса.

1. Сколько продуктов в таблице содержат меньше 50 г углеводов и меньше 50 г белков? Запишите число этих продуктов в ячейку Н2 таблицы.
2. Какова средняя калорийность продуктов с содержанием жиров менее 1 г? Ответ на этот вопрос запишите в ячейку Н3 таблицы с точностью не менее двух знаков после запятой.

Полученную таблицу необходимо сохранить под именем, указанным организаторами экзамена.

Выберите ОДНО из предложенных ниже заданий: 20.1 или 20.2.

- 20.1** Исполнитель Робот умеет перемещаться по лабиринту, начерченному на плоскости, разбитой на клетки. Между соседними (по сторонам) клетками может стоять стена, через которую Робот пройти не может. У Робота есть девять команд. Четыре команды – это команды-приказы:

вверх вниз влево вправо

При выполнении любой из этих команд Робот перемещается на одну клетку соответственно: вверх ↑, вниз ↓, влево ←, вправо →. Если Робот получит команду передвижения сквозь стену, то он разрушится.

Также у Робота есть команда **закрасить**, при которой закрашивается клетка, в которой Робот находится в настоящий момент.

Ещё четыре команды – это команды проверки условий. Эти команды проверяют, свободен ли путь для Робота в каждом из четырёх возможных направлений:

сверху свободно снизу свободно слева свободно справа свободно

Эти команды можно использовать вместе с условием «если», имеющим следующий вид:

если условие то

последовательность команд

все

Здесь *условие* – одна из команд проверки условия.

Последовательность команд – это одна или несколько любых команд-приказов.

Например, для передвижения на одну клетку вправо, если справа нет стенки, и закрашивания клетки можно использовать такой алгоритм:

если справа свободно то

вправо

закрасить

все

В одном условии можно использовать несколько команд проверки условий, применяя логические связки **и**, **или**, **не**, например:

если (справа свободно) и (не снизу свободно) то

вправо

все

Для повторения последовательности команд можно использовать цикл «пока», имеющий следующий вид:

нц пока условие

последовательность команд

кц

Например, для движения вправо, пока это возможно, можно использовать следующий алгоритм:

нц пока справа свободно

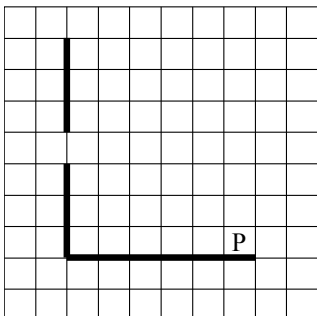
вправо

кц

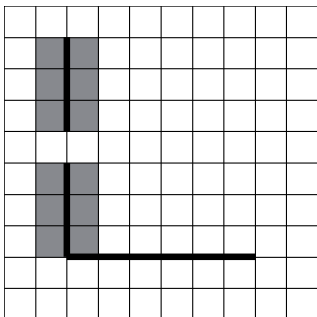
Выполните задание.

На бесконечном поле есть горизонтальная и вертикальная стены. Левый конец горизонтальной стены соединён с нижним концом вертикальной стены. **Длины стен неизвестны.** В вертикальной стене есть ровно один проход, точное место прохода и его ширина неизвестны. Робот находится в клетке, расположенной непосредственно над горизонтальной стеной у её правого конца.

На рисунке указан один из возможных способов расположения стен и Робота (Робот обозначен буквой «Р»).



Напишите для Робота алгоритм, закрашивающий все клетки, расположенные непосредственно левее и правее вертикальной стены. Проход должен остаться незакрашенным. Робот должен закрасить только клетки, удовлетворяющие данному условию. Например, для приведённого выше рисунка Робот должен закрасить следующие клетки (см. рисунок).



При исполнении алгоритма Робот не должен разрушиться, выполнение алгоритма должно завершиться. Конечное расположение Робота может быть произвольным.

Алгоритм должен решать задачу для любого допустимого расположения стен и любого расположения и размера прохода внутри стены.

Алгоритм может быть выполнен в среде формального исполнителя или записан в текстовом редакторе.

Сохраните алгоритм в текстовом файле. Название файла и каталог для сохранения Вам сообщат организаторы экзамена.

20.2

Напишите программу, которая в последовательности натуральных чисел определяет минимальное число, оканчивающееся на 4.

Программа получает на вход количество чисел в последовательности, а затем сами числа. В последовательности всегда имеется число, оканчивающееся на 4.

Количество чисел не превышает 1000. Введённые числа не превышают 30 000.

Программа должна вывести одно число – минимальное число, оканчивающееся на 4.

Пример работы программы:

Входные данные	Выходные данные
3 24 14 34	14